













1. Autocad'de çizgi çizmemizi sağlayan komut aşağıdakilerden hangisidir?
a) circle b) trim c) line d) polygon

2. Autocad' de yazı yazmamızı sağlayan komut aşağıdakilerden hangisidir?
a) text b) point c) hatch d) erase

3. Erase komutu autocad'de aşağıdakilerden hangisi yapmaktadır?
a) obje silme b) radius çizme
c) daire çizme d) çizgi çizme

4. Bir parçayı istenilen sayı kadar bir eksen etrafında çoğaltma komutu hangisidir?
a)  b)  c)  d) 

5. Çizilmiş olan parçayı hem döndürebildiğimiz hem de tersini yansıtabildiğimiz komut nedir?
a)  b)  c)  d) 

6. Çizilmiş olan bir parçayı tarama yapmak için aşağıdakilerden hangi komut kullanılır?
a)  b)  c)  d) 

7. Bir dairenin çeyrek noktaların yakalama komutu aşağıdakilerden hangisidir?
a) Endpoint b) Midpoint
c) Quadarent d) Tangent

8. Autocad'de çizgileri birbirinden budamasını sağlayan komut aşağıdakilerden hangisidir ?
a) extend b) union c) trim d) hatch

9. Yakalama modlarından (O Snap) çizginin orta nokta yakalamayı sağlayan yardımcı mod aşağıdakilerden hangisidir?
a) Midpoint b) nearest
c) perpendicular d) Node





10. Yakalama modlarından node ne işe yarar?
a) dikine yakalar b) paralel yakalar
c) nokta yakalar d) teğet yakalar

11. Autocad' de tarama yapmamızı sağlayan komut aşağıdakilerden hangisidir?
a) text b) hatch c) region d) line

12. Belirli bir mesafe girerek çizgileri ötelemeye yarayan komut aşağıdakilerden hangisidir?
a) line b) ofset c) move d) polyline

13. Dosyanın resim formatında kaydetme komut aşağıdakilerden hangisidir?
a) open b) copy c) save d) saveimg

14. Çizilen bir objeyi 5 kat büyültmek istenildiğinde ne yapılmalıdır?
a) scale' den 5/1 b) stretch' den 5/1
c) scale' den 1/5 d) stretch' den 5/1

15. Autocad' de objeleri döndürmeyi sağlayan komut aşağıdakilerden hangisidir?
a)  b)  c)  d) 

16. Autocad' deki sivri köşeleri radüs atma komutu aşağıdakilerden hangisidir?
a) edit text b) fillet c) chamfer d) circle

17. Dimension style menüsü autocad'de ne işe yarar ?
a) ölçülendirme yapılır.
b) ölçülendirme ayarı ve yeni ölçülendirme karakterleri yaratılır.
c) Kopyalama yapar.
d) Hiçbiri

18. Çizilen şekilleri çizim alanında sağa-sola, yukarı-aşağı sürüklemeyi sağlayan komut hangisidir?
a) region b) ofset c) pan d) array

19. Autocad' de sonsuz çizgi komut aşağıdakilerden hangisidir?
a) line b) polyline c) multiline d) construction line

20. Autocad' de çizgileri birbirine uzatılmasını sağlayan komut aşağıdakilerden hangisidir ?

- a) extend b) break
c) break at point d) spline

21. Bir çokgen en az kaç kenar olması gerekir?

- a) 6 b) 2 c) 3 d) 5

22. Birden fazla nesneyi tek bir parça haline getiren komut hangisidir?

- a) hatch b) pedit c) save d) move

23. Katı modellerin çiziminde hangisi Modelling menüsünden yer almaz?

- a) Polysolid b) Wedge
c) Orbit d) Extrude

24. Katı modellerin çiziminde hangisi boşaltma komutudur?

- a) Polysolid b) shell c) Orbit d) Extrude

25. Katı modellerin çiziminde hangisi benzetme komutudur?

- a) Sweep b) shell c) Orbit d) Box